

9

मरुस्थले जीवनम्

पञ्चमे अध्याये भवन्तः पठितवन्तः सन्ति यत् वृक्षाणां पादपानां पशूनाम् एवं च मनुष्याणां कृते जलम् एव जीवनम् अस्ति । यत्र पातुं जलं न भवेत्, पशूनां कृते चरणाय घासः न भवेत् एवं च सस्यानाम् उत्पन्नतायै जलं न भवेत्, एतादृशे स्थाने कस्यापि जीवस्य कृते जीवनं कठिनम् एव भवति । अधुना वयं विश्वस्य तेषां स्थानानां विषये पठिष्यामः यत्र जनाः अत्यधिके कष्टकारिणि तापमाने अपि जीवनं ज्ञातवन्तः सन्ति । एतेषु कानिचन स्थानानि अग्निवत् उष्णानि सन्ति, तर्हि कानिचन हिमवत् शीतलानि सन्ति । एतानि विश्वस्य मरुस्थलक्षेत्राणि सन्ति । एतेषु क्षेत्रेषु न्यूना वृष्टिः, विरला वनस्पतिः एवं च अत्यधिकं तापमानं भवति । तापमानाधारेण **मरुस्थलानि** शीतलानि उष्णानि वा भवितुं शक्नुवन्ति । एतेषु स्थानेषु यत्र कुत्रापि किञ्चिन्मात्रं जलम् उपलभ्यते, जनाः तत्र कृषिकरणार्थं निवसन्ति ।

शब्दावली

वैज्ञानिकाः तु अत्र मीनानाम् अस्थिपञ्जरान् अपि प्राप्नुवन् । भवताम् **मरुस्थलम्** : एषः कश्चन शुष्कः प्रदेशः अस्ति यस्य विशेषताः अत्यधिकम् उच्चम् अथवा निम्नं तापमानम्

उष्णमरुस्थल-सहारा

विश्वस्य एवं च अफ्रीकामहाद्वीपस्य मानचित्रं पश्यन्तु । उत्तरी-अफ्रीकायाः बृहत्भूभागे प्रसृतस्य सहारामरुस्थलस्य विषये ज्ञानं प्राप्नुवन्तु । एतत् विश्वस्य बृहत्तमं मरुस्थलं अस्ति । एतत् प्रायेण 8.54 लक्ष-वर्ग-किलोमीटर-परिमितस्य क्षेत्रे प्रसृतं अस्ति । किं भवतां स्मरणे वर्तते यत् भारतस्य क्षेत्रफलं 3.2 लक्ष-वर्ग-किलोमीटर-परिमितं अस्ति ? सहारा-मरुस्थलम् एकादश-देशैः परिवेष्टितं वर्तते । एते देशाः सन्ति- अल्जीरिया, चाड, मिस्र, लीबिया, माली, मौरितानिया, मोरक्को, नाइजर, सूडान, ट्यूनिशिया, पश्चिमीसहारादयः च ।

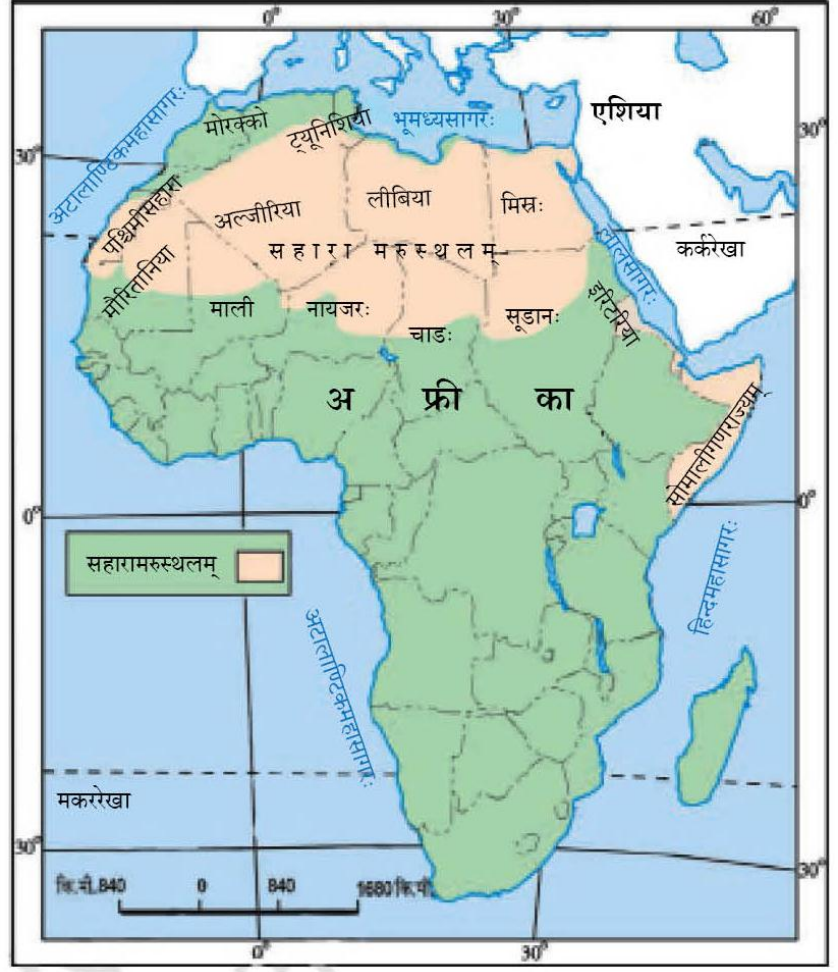


चित्रम्- 9.1 सहारा-मरुस्थलम्

रेगिस्तानस्य विषये विचारणसमये भवतां मस्तिष्के शीघ्रमेव सिकतायाः दृश्यम् उद्भवति । परन्तु सहारा-मरुस्थलं सिक्थस्य विशालभागैः एव आवृतः न अस्ति अपितु तत्र लघुपाषाणखण्डैः तथा च नग्नैः शिलानिर्मितैः तलैः उत्थिताः प्रस्ताराः अपि प्राप्यन्ते । एते शिलातलाः केषुचित् स्थानेषु 2500 मीटर-परिमितात् अपि अधिकाः उन्नताः सन्ति ।

किं भवन्तः जानन्ति?

भवन्तः एतत् ज्ञात्वा आश्चर्यम् अनुभविष्यन्ति यत् अद्यतनं सहारामरुस्थलम् एकस्मिन् समये पूर्णतया हरितमयम् आसीत् । सहारायाः गुहाभ्यः प्राप्तेभ्यः चित्रेभ्यः ज्ञायते यत् अत्र नद्यः तथा च मकराः प्राप्यन्ते स्म । गजः, सिंहः, चित्रोष्ट्र, उष्ट्रकुक्कुटः, मेषः, पशुः, अजा च इत्येते सामान्याः जन्तवः आसन् । परन्तु अत्रत्यं वायुमण्डलस्य परिवर्तनम् एतत् क्षेत्रम् अत्यन्तम् उष्णे शुष्के च प्रदेशे पर्यवर्तयत्।



चित्रम्-9.2 : अफ्रीका-महाद्वीपे सहारा

किं जानन्ति भवन्तः?

सहारायाः अल-अजीजिया-क्षेत्रे या त्रिपोली लीबियायाः दक्षिणभागे स्थिता अस्ति अत्रत्य सर्वाधिकं तापमानं तापमानः 1922 तमे 57.7⁰ सेल्सियस-परिमितं लिखितं आसीत्।


वायुमण्डलम्-

सहारा-रेगिस्तानस्य वायुमण्डलम् अत्यधिकम् उष्णम् एवं च शुष्कं वर्तते । अत्रत्यः वर्षातुः अल्पकालाय भवति । अत्र आकाशः मेघरहितः तथा च निर्मलः भवति । अत्र आर्द्रता सञ्चयस्य अपेक्षया शीघ्रतया वाष्पिता भवति । दिनानि अविश्वसनीयरूपेण उष्णानि भवन्ति । दिनस्य समये तापमानं 50⁰ सेल्सियसतः अपि उपरि प्राप्नोति, येन सिकता तथा च नग्नशिलाः अत्यधिकम् उष्णाः जायन्ते । एतेषां तापस्य विक्रिणेन परितः सर्वमपि उष्णं भवति । रात्र्यः अत्यधिकाः शीतलाः भवन्ति, तापमानं च न्यूनीभूय हिमाङ्क-बिन्दुः च प्रायेण 0⁰ यावत् प्राप्नोति ।

वनस्पतिजातिः एवं च प्राणिजातिः

सहारामरुस्थलस्य वनस्पतिषु कैक्टस-खर्जूर-ऐकेशियावृक्षाः च प्राप्यन्ते । अत्र केषुचित् स्थानेषु मरुद्यान-खर्जूरवृक्षैः परिवेष्टिताः हरितद्वीपाः प्राप्यन्ते ।

उष्ट्रस्य लगुडव्याघ्रस्य, जम्बुकस्य, शृगालस्य, वृश्चिकस्य, सर्पाणां च विभिन्नाः जातयः एवं च गृहगोधिकाः अत्रत्याः प्रमुखाः जीवजन्तवः सन्ति ।



चित्रम्-3.3 सहारा-मरुस्थले मरुद्यानम्

जनाः

सहारा-मरुस्थलस्य कष्टकारिणि वायुमण्डले अपि विभिन्नसमुदायानां जनाः निवसन्ति । ये भिन्नेषु गतिविधिषु भागग्रहणं कुर्वन्ति । एतेषु बेदुईन-तुआरेगौ च अपि सम्मिलितौ स्तः । एते जनाः अजान्, मेषान् उष्ट्रान् अश्वसदृशान् पशून् च पालयन्ति । एतेभ्यः पशुभ्यः एते जनाः दुग्धं प्राप्नुवन्ति । एतेषां चर्मणा एते पेटिकां, पादत्राणं, जलकूपीं च निर्मातुं चर्म प्राप्नुवन्ति । तथा च पशूनां केशानाम् उपयोगः कटनिर्माणाय, कालीनाय, वस्त्रनिर्माणाय, कम्बलनिर्माणाय च भवति । धूलिपूर्णेभ्यः झञ्झावातेभ्यः संरक्षणाय एते जनाः भारपूर्णानि वस्त्राणि धरन्ति ।

सहारायां मरुद्यानं तथा च मिस्त्रे नील-उपत्यका जनान् निवासे साहाय्यं करोति । अत्र जलस्य उपलब्धताकारणेन जनाः खर्जूरवृक्षान् उत्पादयन्ति । अत्र तण्डुल-गोधूम-यव-सेमसदृशानि सस्यानि उत्पाद्यन्ते । मिस्त्रे उत्पाद्यमानः कार्पासः विश्वप्रसिद्धः वर्तते ।

तैलस्य अन्वेषणं, सम्पूर्णविश्वे अत्यधिक-आवश्यकतापूर्णस्य अस्य उत्पादनस्य अल्जीरिया-लीबिया-मिस्रादिषु क्षेत्रेषु जातम् इति कारणेन सहारामरुस्थले शीघ्रतया परिवर्तनं जायमानं वर्तते । एतेषु क्षेत्रेषु प्राप्तेषु अन्येषु महत्त्वपूर्णेषु खनिजेषु लौह-स्फुरक-लोहक-यूरेनियमादयः सम्मिलिताः सन्ति ।

सहारायाः सांस्कृतिक्यां जीवनशैल्याम् अपि परिवर्तनम् आगम्यमानं वर्तते । अद्य अत्र मस्जिदेभ्यः उन्नतानि काचनिर्मितानां वातायनानां भवनानि तथा च उष्ट्राणां प्राचीनमार्गस्य स्थाने महामार्गाः निर्मिताः सन्ति । लवणस्य व्यापारे उष्ट्राणां स्थानानि ट्रकयानानि स्वीकुर्वन्ति सन्ति । तुआरेगजनाः विदेशीपर्यटकाणां कृते मार्गदर्शकाणां कार्याणि कुर्वन्तः सन्ति । अद्य अनेके चलवासीजातिकाः जनाः नगरीयजीवनं प्रति गम्यमानाः सन्ति, यत्र ते तैलस्य एवं च अनिल-कार्येषु वृत्तिम् अन्वेषयन्तः सन्ति ।

किं जानन्ति भवन्तः?

वैज्ञानिकाः तु अत्र मीनानाम् अस्थिपञ्जरान् अपि प्राप्नुवन् । भवताम् अनुसारं, किं भवितुं शक्नोति ।

किं भवन्तः जानन्ति?

यदा सिकताः पवनः उड्डाय नयति तदा तत्र गर्तः निर्मितः भवति । यत्र गर्ते भूमिगतं जलं पृष्ठे आगच्छति, तत्र

मरुद्यानानि निर्मितानि भवन्ति । एतानि क्षेत्राणि उर्वरापूर्णानि भवन्ति । जनाः एतान् परितः निवासं कुर्वन्ति । एवं च खर्जूरस्य वृक्षान् तथा च अन्यानि सस्यानि उत्पादयन्ति । यदाकदाचित् एतत् मरुद्यानम् असामान्यरूपेण बृहद् अपि भवितुं शक्नोति । मोरक्कोमध्ये टैफिलालेट-मरुद्यानम् एतादृशम् एव एकं विशालं मरुद्यानं अस्ति, यत् 13,000 वर्ग-किलोमीटर-परिमिते क्षेत्रे विस्तृतं अस्ति ।

शब्दस्य उत्पत्तिः

लद्दाखशब्दः द्वयोः शब्दयोः मेलनेन निर्मितो वर्तते । “ला” इतिशब्दस्य अर्थः - ‘पर्वतीय-गिरिद्वारम्’ तथा च “दाख” इति शब्दस्य अर्थः - ‘देशः’ इति।

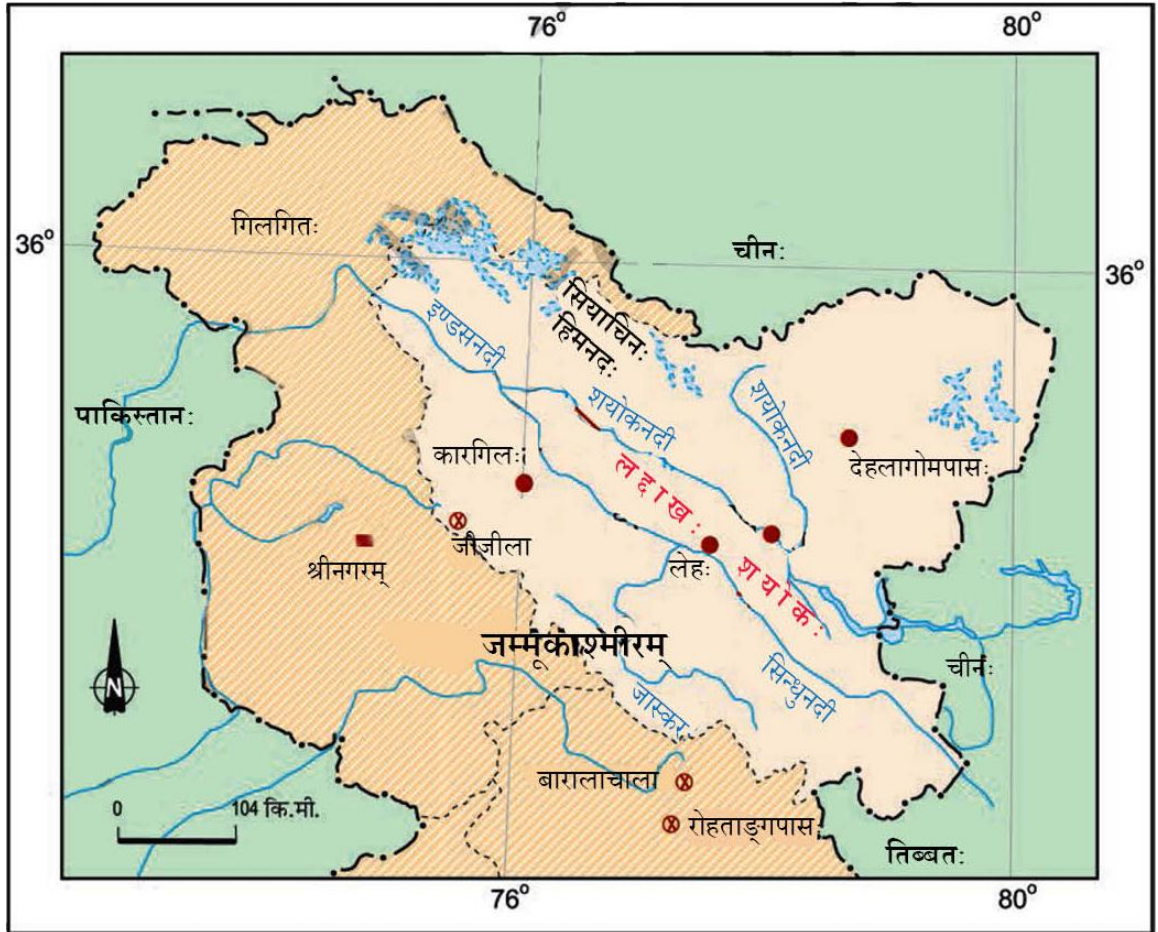
किं जानन्ति भवन्तः?

पृथिव्याः सर्वाधिकेषु शीतलेषु स्थानेषु एकः ‘द्रासः’ इति लद्दाखे स्थितः अस्ति ।

शीतलं मरुस्थल-लद्दाखः

जम्मूकश्मीरस्य पूर्वभागे महा-हिमालये स्थितः लद्दाखः किञ्चन शीतल-मरुस्थलं अस्ति (चित्रम्-10.4) । अस्य उत्तरभागे काराकोरम-पर्वत-श्रेण्यः एवं च दक्षिणे जास्कर-पर्वतः स्थितो अस्ति । लद्दाखात् भूत्वा अनेकाः नद्यः प्रवहन्ति, यासु सिन्धुनदी प्रमुखा अस्ति । एताः नद्यः गभीराणाम् उपत्यकानाम् एवं च महा-उपत्यकानां निर्माणं कुर्वन्ति । लद्दाखे अनेकाः हिमान्यः सन्ति यथा – गाङ्ग्री-हिमानी ।

लद्दाखस्य औन्नत्यं कारगिले प्रायेण 3000 मीटरात् आरभ्य काराकोरमे 8000 मीटराद् अधिकं प्राप्यते । अधिकस्य औन्नत्यस्य कारणेन अत्रत्यं वायुमण्डलम् अत्यधिकं शीतलं शुष्कं च भवति । अस्मिन् औन्नत्ये वायुतलः कृशः भवति येन सूर्यातपस्य अधिका उष्णता प्रतीयते । ग्रीष्मर्तौ दिनस्य तापमानः 0° सेल्सियसतः किञ्चित् एव अधिकः भवति । एवं च रात्रौ तापमानः शून्यात् 30° तः सेल्सियसतः अधः गच्छति । शीतर्तौ एतत् हिममयं शीतलं च भवति । तापमानं प्रायेण प्रत्येकस्मिन् समये 40° सेल्सियसतः अधः एव भवति । यतः एषः प्रदेशः हिमालयस्य वृष्टिछायाक्षेत्रे स्थितः अस्ति, अतः अत्र वृष्टिः प्रायः अतीव न्यूना एव भवति ।



चित्रम् 3.4 लद्दाखः

कठिनतया 10 सेण्टीमीटर-प्रतिवर्षम् । एतत् क्षेत्रं हिमपवनानां वेगेन ज्वाल्यमानस्य सूर्यतापस्य अनुभवं करोति । एतत् ज्ञात्वा भवन्तः आश्चर्यम् अनुभविष्यन्ति यत् यदि भवन्तः सूर्यातपे उपविशेयुः तर्हि भवतां पादाः छायायां भवेयुः, तर्हि भवन्तः सहैव एकस्मिन् समये एव ऊष्माघातात् एवं च तुषारस्य उपघातात् ग्रसिताः भवितुं शक्नुवन्ति ।

वनस्पतिजातिः एवं च प्राणिजातिः

अत्र उच्चशुष्कतायाः कारणेन वनस्पतिः विरला भवति । अत्र जन्तूनां चरणाय क्वचिद् अपि घासः एवं च लघवः स्तम्बाः मिलन्ति । उपत्यकायां शरपतस्य एवं च पॉप्लरस्य उपवनानि द्रष्टुं शक्यन्ते। ग्रीष्मर्तौ सेवफल-क्षुमानी-अक्षौटसदृशाः पल्लविताः भवन्ति। लद्दाखे पक्षीणां विभिन्नाः प्रजातयः दृश्यन्ते । एतेषु रॉबिन-रेडस्टार्ड-तिब्बती-स्नोकोक-रैवेन-हूपाश्च अत्र प्राप्यमाणाः सामान्याः पक्षिणः सन्ति । एतेषु केचन प्रवासिपक्षिणः सन्ति । लद्दाखस्य पशुषु वन-अजः, वन-मेषः, याकः, एवं च विशेषप्रकारकाः कुक्कुराः प्राप्यन्ते । एते पशवः दुग्ध-मांस-त्वग्निमित्तं च पाल्यन्ते स्म । याकस्य दुग्धस्य उपयोगः अमीक्षानिमित्तं तथा च नवनीतनिर्माणाय भवति । मेषस्य एवं च अजायाः केशानाम् उपयोगः ऊर्णवस्त्राणां निर्माणाय क्रियते ।

जनाः

किं भवन्तः लद्दाखस्य एवं च तिब्बतस्य तथा च मध्य-एशियायाः निवासिनां मध्ये काञ्चन समानतां प्राप्नुवन्ति ? अत्रत्याः अधिकांशजनाः मुस्लिमाः अथवा बौद्धाः सन्ति । वस्तुतः लद्दाखक्षेत्रे अनेकबौद्धमठाः स्वस्य परम्परागतेन 'गोम्पा' इति नामकेन सह स्थिताः सन्ति । केचन प्रसिद्धाः बौद्धमठाः सन्ति – हेमिस-थिकसे-शे-लामायुरू च (चित्रम्-10.5)

ग्रीष्मर्तौ अत्रत्याः निवासिनः यवानाम् आलूकानां हरेणूनां सेमानां शक्करकन्दानां च कृषिं कुर्वन्ति । शीतर्तौ वायुमण्डलम् एतावत् कष्टपूर्णं भवति यत् जनाः धार्मिकेषु अनुष्ठानेषु एवं च उत्सवेषु आत्मानं व्यस्तं स्थापयन्ति । अत्रत्याः महिलाः अत्यधिकाः परिश्रमशीलाः भवन्ति । ताः केवलं कृहेषु कृषिक्षेत्रेषु एव कार्यं न कुर्वन्ति अपितु लघून् उद्योगान् अपि पश्यन्ति । लद्दाखस्य राजधानी लेहः राजमार्गेण एवं च वायुमार्गेण सम्यक्तया युक्ता अस्ति । राष्ट्रियः राजमार्गः 1-अ लेहं जोजीलादर्रातः भूत्वा कश्मीर-उपत्यकया योजयति । किं भवन्तः हिमालयस्य केचन अन्येषां गिरिद्वाराणां विषये सूचयितुं शक्नुवन्ति ?

किं जानन्ति भवन्तः?


लद्दाखप्रदेशः 'खा-पा-चान' इति अपि कथ्यते । यस्य अर्थः भवति हिमभूमिः

किं जानन्ति भवन्तः?

चीरू अथवा तिब्बती-एण्टीलोपः कश्चन विलुप्तप्रायः जीवः वर्तते । अस्य आखेटः शाहतूशनामकाय अस्य ऊर्णाय क्रियते । यत् अल्पभारतीयम् एवं च अत्यधिकम् उष्णं भवति ।

किं जानन्ति भवन्तः?

क्रिकेटक्रीडायाः समीचीनतमं लगुडं शरपतवृक्षस्य काष्ठेन निर्मायते ।



चित्रम् 9.5 थिकसे-मठः

किं जानन्ति भवन्तः?

मनाली-लेह-राजमार्गः चतुर्भ्यः गिरिद्वारेभ्यः भूत्वा निर्गच्छति – रोहताङ्ग-ला, बारालाचा-ला, लुनगालाचा-ला, तथा च टङ्गलङ्ग-ला इत्यादिभ्यः च । अयं राजमार्गः केवलं जूलै सितम्बरस्य मध्यं यावत् उद्वटति यदा हिमस्य मार्गात् वारणं क्रियते ।



चित्रम् – बारालाचा-ला

अत्रत्यः मुख्यः गतिविधिः पर्यटनं वर्तते । देशेभ्यः विदेशेभ्यः अनेके पर्यटकाः पर्यटनाय अत्र आगच्छन्ति । गोम्पादर्शनं घासस्य समक्षेत्राणि हिमनदानां भ्रमणम् एवं च उत्सवान् तथा च अनुष्ठानानि द्रष्टुम् अत्रत्यानि प्रमुखाणि आकर्षणानि सन्ति ।

आधुनिकीकरणस्य फलस्वरूपम् अत्रत्यस्य

जनजीवने परिवर्तनम् आगच्छन् अस्ति । परन्तु लद्दाखस्य जनैः शताब्देभ्यः प्रकृत्या सह समन्वयकरणं तथा च संतुलनकरणं शिक्षितं अस्ति । जलसदृशानाम् एवं च इन्धनसदृशानां संसाधनानां न्यूनतायाः कारणेन एते आवश्यकतानुसारेण एवं च मितव्ययितया एव एतेषाम् उपयोगं कुर्वन्ति तथा च किमपि व्यर्थं न कुर्वन्ति ।



चित्रम्-9.6 पारम्परिक-परिवेशे लद्दाखीमहिलाः

अभ्यासाः

1. निम्नलिखितानां प्रश्नानाम् उत्तराणि यच्छन्तु –

- (क) विश्वे के द्विप्रकारके मरुस्थले प्राप्येते ?
- (ख) सहारा-मरुस्थलं कस्मिन् महाद्वीपे स्थितं अस्ति ?
- (ग) लद्दाख-मरुस्थलस्य वायुमण्डलीयाः परिस्थितयः काः सन्ति ?
- (घ) लद्दाखे पर्यटकानां प्रमुखाणि आकर्षणकेन्द्राणि कानि सन्ति ?
- (ङ) सहारा-मरुस्थलस्य जनाः कीदृशानि वस्त्राणि धरन्ति ?
- (च) लद्दाखे उत्पद्यमानानां वृक्षाणां नामानि सूचयन्तु ?

2. समुचितम् (✓) उत्तरं चिह्नितं कुर्वन्तु -

- (क) सहारा अफ्रीकायाः कस्मिन् भागे स्थिता अस्ति ?
 - (i) पूर्वी
 - (ii) उत्तरी
 - (iii) पश्चिमी

- (ख) सहारा कीदृशं मरुस्थलं अस्ति ?
- शीतलम्
 - उष्णम्
 - मृदुः
- (ग) लद्दाख-मरुस्थलस्य अधिकांशनिवासिनः सन्ति-
- ईसाई एवं च मुस्लिमाः
 - बौद्धाः एवं च मुस्लिमाः
 - ईसाईजनाः एवं च बौद्धाः
- (घ) मरुस्थलस्य विशेषता अस्ति -
- विरल-वनस्पतिः
 - अधिक-वर्षणम्
 - अल्प-जलवाष्पणम्
- (ङ) लद्दाखे 'हेमिस' इति प्रसिद्धम् अस्ति-
- मन्दिरम्
 - चर्च
 - माण्टेसरि
- (च) मिस्रः निम्नलिखिताय सस्याय प्रसिद्धः अस्ति -
- गोधूमः
 - कणिशम्
 - कार्पासः

3. निम्नलिखित-स्तम्भान् मेलयित्वा समुचितं योजयन्तु-

- | | |
|----------------|---------------------|
| (क) मरुद्यानम् | (i) लीबीया |
| (ख) बेदूयिनः | (ii) बौद्धमठः |
| (ग) तैलम् | (iii) हिमनदः |
| (घ) गाङ्ग्री | (iv) जलेन सह गर्तः |
| (ङ) लामायुरुः | (v) शीतलं मरुस्थलम् |
| | (vi) सहारा |

4. कारणं सूचयन्तु -

- (क) मरुस्थले अत्यल्प-वनस्पतिः भवति ।
- (ख) सहारा-मरुस्थलस्य जनाः भारयुक्तानि वस्त्राणि धरन्ति ।

5. मानचित्र-कौशलम्-

- (क) अफ्रीकायाः मानचित्रे सहारा-मरुस्थलस्य समीपस्थानां चतुरः देशान् चिह्नितं कुर्वन्तु ।
- (ख) भारतस्य रूपरेखामानचित्रे काराकोरम-श्रेणीं जास्कर-श्रेणीं लद्दाखगिरिद्वारं जोजीलागिरिद्वारं च चिह्नितं कुर्वन्तु ।

6. आयान्तु क्रीडामः –

मरुस्थल-क्रीडा

कक्षायां कर्तुं योग्ये अस्मिन् गतिविधौ सर्वे विद्यार्थिनः सम्मिलिताः भवितुं शक्नुवन्ति। शिक्षकाः शिक्षिकाः च मरुस्थलजन्तूनां सूचिं निर्मान्ति । सूच्यां जन्तूनां सङ्ख्या तावती एव भविष्यति यावती कक्ष्यायां छात्राणां सङ्ख्या वर्तते । स्तनपायी-चटका-सरीसर्पाणां च जन्तूनां श्रेण्यां जन्तूनां चयनं कर्तुं शक्यते । स्तनपायिषु जन्तुषु उष्ट्र-याक-शृगाल-मेष-अजा- हरिणादयः, चटकासु रैवेन-चिल्ल-गृद्ध-टर्की-आदयः तथा च सरीसर्पेषु सर्पादयः इत्येतेषां प्रजातयः सम्मिलिताः कर्तुं शक्यन्ते ।

प्रत्येकं विद्यार्थिनः कृते एकं मरुस्थलजन्तुं निर्धारयन्तु । छात्रात् तस्य जन्तोः त्रीणि लक्षणानि कागदे लेखनाय कथयन्तु । (विद्यार्थी 10 सेण्टीमीटर-परिमितस्य x 15 सेण्टीमीटर-परिमितस्य आकारस्य सूची-पत्रस्य उपयोगं कर्तुं शक्नुवन्ति) कीदृशे मरुस्थले एते प्राप्यन्ते? अनुकूलतायाः प्रकाराः? मानवाय उपयोगितासदृशाणां प्रश्नानाम् उत्तराणि दातुं शक्नुवन्ति ।

अनुमानपूर्णे अस्मिन् खेले एतानि लक्षणानि सङ्केतरूपेण उपयोगे आनेष्यन्ते । एकस्मिन् फलके रेखाचित्रत्रयं निर्मान्तु- स्तनपायिजीवाः एवं च सरीसृपजीवाः । प्रत्येकं श्रेण्याः अधः रेखाचित्रे एकं कर्गदं संक्षेपयन्तु। कक्षां भागत्रये भागचतुष्टये वा विभाजयितुं शक्नुमः । अस्मिन् मरुस्थलखेले ते परस्परं स्पर्धां करिष्यन्ति। अधुना प्रत्येकं समूहः समुचितम् उत्तरं ज्ञातुं प्रयासं करिष्यति । कक्षां बोधयन्तु यत् ते अनुमानं कुर्वन्तु यत् कागदे प्रदत्ताः विशेषताः केन जन्तुना सह मिलन्ति । यथा –

- उष्णमरुस्थलस्य पशुः ।
- सिक्तात् रक्षणाय द्विधा पक्ष्माः भवन्ति ।
- चर्मणा जलकूपीनां निर्माणं कर्तुं शक्यते ।

समुचितम् उत्तरम् 'उष्ट्रः' इति अस्ति । विद्यार्थिषु केनापि एकेन एतस्य जन्तोः कार्डनिर्मितं स्यात् ।

अनेन विद्यार्थिना उत्तरं न देयम्। समुचिताय उत्तराय दश अङ्काः सन्ति ।

अनया क्रीडया विद्यार्थिनः मरुस्थलम् अवगन्तुं शक्यन्ति । एतां क्रीडां भवन्तः विभिन्नप्रकाराकाणां फलानां पुष्पाणां तथा च जनानां वस्त्रादीनाम् उदाहरणं स्वीकृत्य अपि क्रीडितुं शक्नुवन्ति ।